

Репетиционная работа по обществознанию в форме основного государственного экзамена в 9-х классах в 2017-2018 уч. году

Вариант 1

1. Глобальная экологическая проблема выражается в

- 1) организации заповедников и заказников
- 2) распространении наркомании и алкоголизма
- 3) истощении природных ресурсов
- 4) угрозе новой мировой войны

2. Что является отличительной чертой науки?

- 1) обращение к сверхъестественным силам
- 2) стремление к достижению объективной истины
- 3) воздействие на эмоции людей
- 4) образное отражение идей автора

3. Владимир по профессии инженер-конструктор. В свободное от работы время он руководит клубом авторской песни. Это характеризует его как

- 1) товарища
- 2) работника
- 3) индивида
- 4) личность

4. Верны ли следующие суждения о деятельности?

- А. Деятельностью называют целенаправленную активность животных.
Б. Деятельность человека направлена на удовлетворение его потребностей.

- 1) верно только А
- 2) верно только Б
- 3) верны оба суждения
- 4) оба суждения неверны

5. Старейшина племени собрал у костра взрослых мужчин. Он начал рассказывать историю их божественного предка. При этом члены племени исполняли у костра ритуальный танец. Какую сторону жизни общества иллюстрирует этот пример?

- 1) хозяйственную
- 2) религиозную
- 3) семейную
- 4) политическую

6. Верны ли следующие суждения о морали?

- А. Выполнение норм морали является свободным выбором человека.
Б. Нормы морали опираются на представления людей о добре и зле.

- 1) верно только А
- 2) верно только Б
- 3) верны оба суждения
- 4) оба суждения неверны

7. Экономическая наука изучает

- 1) формы государственного правления
- 2) социальную стратификацию
- 3) типы семьи в современном обществе
- 4) способы хозяйствования людей

8. Экономическая сфера общества помимо производства, обмена, потребления материальных благ включает

- 1) создание духовных ценностей
- 2) обмен культурными достижениями
- 3) распределение материальных благ
- 4) сохранение традиций и обычаев

9. Какой пример свидетельствует о сохранении в смешанной экономике элементов традиционной экономической системы?

- 1) Разработка текстильным предприятием новой коллекции тканей со старинным орнаментом.
- 2) Развитие ручного ремесленного промысла изготовление глиняных игрушек и художественных изразцов.
- 3) Изготовление фар для автомобилей небольшой фирмой-партнёром крупного автогиганта.
- 4) Использование промышленными предприятиями электроэнергии, произведённой ветряными электростанциями.

10. Верны ли следующие суждения о роли экономики в жизни общества?

- А. Экономика обеспечивает людей материальными благами.
Б. Экономика исследует политическую организацию общества, проблемы внутренней и внешней политики.

- 1) верно только А
- 2) верно только Б
- 3) верны оба суждения
- 4) оба суждения неверны

11. Совокупность больших социальных групп, составляющих общество, называют

- 1) социальными отношениями
- 2) социальной структурой
- 3) социальной нормой

4) социальной мобильностью

12. Какую социальную роль могут исполнять как подростки, так и взрослые люди?

- 1) потребитель
- 2) избиратель
- 3) ученик средней школы
- 4) водитель

13. Верны ли следующие суждения о социальном конфликте?

А. Участниками социального конфликта могут быть значительные по численности группы и общности.

Б. Любой социальный конфликт приводит к разрушительным для общества последствиям.

- 1) верно только А
- 2) верно только Б
- 3) верны оба суждения
- 4) оба суждения неверны

14. В нашей стране подписывает и обнародует законы

- 1) глава Правительства
- 2) Президент
- 3) Председатель Совета Федерации
- 4) Генеральный прокурор

15. Во многих странах членам парламента запрещается работать в правительственных учреждениях. В этом проявляется

- 1) верховенство парламента
- 2) республиканская форма правления
- 3) унитарное государственное устройство
- 4) разделение властей

16. Административным проступком является

- 1) отказ выплачивать алименты
- 2) выгул собаки на детской площадке
- 3) отказ уступить место инвалиду в транспорте
- 4) отказ уплатить арендную плату за съемную квартиру

17. К политическим правам (свободам) человека относятся(ятся)

- 1) право собственности
- 2) свобода вероисповедания
- 3) избирательные права
- 4) свобода передвижения

18. Высшим органом исполнительной власти в Российской Федерации является

- 1) Федеральное Собрание Российской Федерации
- 2) Конституционный суд Российской Федерации
- 3) Прокуратура Российской Федерации
- 4) Правительство Российской Федерации

19. Известный учёный подарил школе, в которой когда-то учился, оборудование для школьной лаборатории. Этот пример, прежде всего, иллюстрирует право собственника

- 1) владеть
- 2) распоряжаться
- 3) пользоваться
- 4) наследовать

20. Верны ли следующие суждения о Федеральном Собрании РФ?

А. Федеральное Собрание является представительным и законодательным органом РФ.

Б. Федеральное Собрание РФ состоит из двух палат.

- 1) верно только А
- 2) верно только Б
- 3) верны оба суждения
- 4) оба суждения неверны

21. На уроке учитель рассказывал о том, что в мире существует множество различных религиозных верований. Сравните мировые и национальные (национально-государственные) религии. Выберите и запишите в первую колонку таблицы порядковые номера черт сходства, а во вторую колонку порядковые номера черт отличия:

- 1) неотъемлемая часть культуры одного народа
- 2) наличие культа, обрядов, религиозных традиций
- 3) распространение на всех континентах, в большинстве стран мира
- 4) вера в сверхъестественные силы

Черты сходства		Черты отличия	

22. Установите соответствие между признаками и формами политического участия граждан РФ, к которым они относятся: к каждому элементу, данному в первом столбце, подберите элемент из второго столбца.

ПРАВИЛА ПОВЕДЕНИЯ

ВИДЫ

СОЦИАЛЬНЫХ
НОРМ

- А) При встрече знакомых младший должен первым приветствовать старшего.
 Б) При посещении Санкт-Петербурга туристы бросают монетки к скульптуре Чижика-Пыжика и загадывают желания.
 В) При входе в помещение мужчина должен пропустить женщину вперёд себя и придержать рукой открытую дверь.
 Г) На празднике Масленицы принято сжигать соломенное чучело и печь блины.

- 1) правила этикета
 2) обычаи

Запишите в ответ цифры, расположив их в порядке, соответствующем буквам:

А	Б	В	Г

23. Прочитайте приведённый текст, каждое положение которого отмечено буквой.

(А) В стране Z действует несколько тысяч банков и других финансовых организаций. (Б) Социологические исследования показали, что более половины граждан страны Z хранят свои сбережения дома. (В) Очевидно, граждане не доверяют банкам, сомневаются в их надёжности и стабильности.

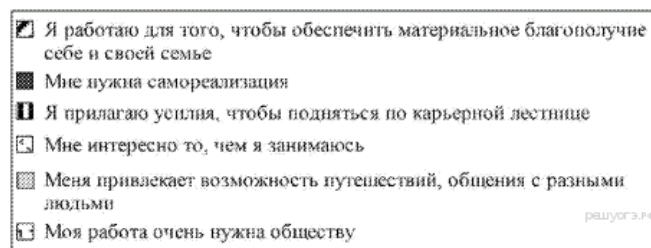
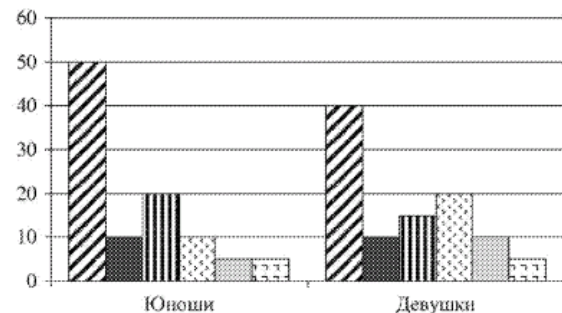
Определите, какие положения текста:

- 1) отражают факты
 2) выражают мнения

Запишите в таблицу цифры, обозначающие характер соответствующих положений.

А	Б	В

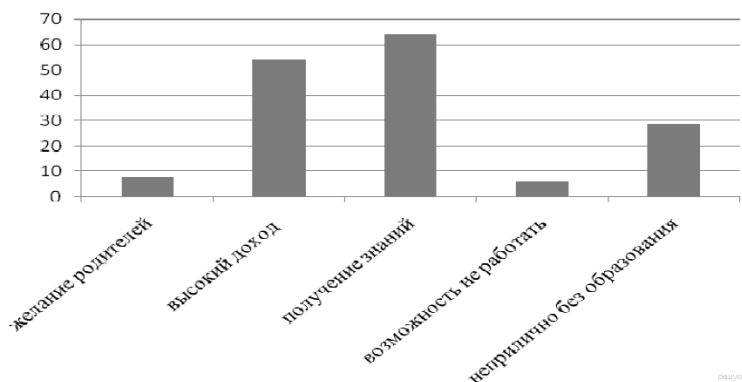
24. Учёные опросили 23-летних работающих юношей и девушек страны Z. Им задавали вопрос: «Зачем Вы работаете, какова Ваша трудовая мотивация?». Полученные результаты (в % от числа опрошенных) представлены в виде диаграммы.



Найдите в приведённом списке выводы, которые можно сделать на основе диаграммы, и запишите цифры, под которыми они указаны.

- 1) Половина юношей работают для того, чтобы обеспечить материальное благополучие.
- 2) Девушки в равной мере связывают трудовую мотивацию с потребностью в самореализации и возможностью путешествий, общения с разными людьми.
- 3) Доля тех, кто работает, потому что им интересно то, чем они занимаются, больше среди девушек, чем среди юношей.
- 4) Равные доли опрошенных каждой группы прилагают усилия, чтобы подняться по карьерной лестнице.
- 5) Большая доля юношей, чем девушек, работает потому, что их работа очень нужна обществу.

25. В стране А было проведено социологическое исследование среди молодёжи о мотивах получения высшего образования. Результаты опроса (в % от числа опрошенных) представлены в виде диаграммы.



Результаты опроса, отражённые в диаграмме, были опубликованы в СМИ. Какие из приведённых ниже выводов непосредственно вытекают из полученной в ходе опроса информации? Запишите цифры, под которыми они указаны.

- 1) Желание родителей дать детям высшее образование остаётся одним из основных мотивов молодёжи при поступлении в вуз.
- 2) Современная молодёжь понимает, что в условиях информационного общества профессиональные знания позволяют иметь высокий доход в будущем.
- 3) Молодёжь стремится к получению высшего образования, только чтобы не работать в будущем.
- 4) Молодые люди осознанно стремятся получить высшее образование, менее всего ориентируясь на желание своих родителей.
- 5) В обществе сложилось негативное отношение к молодёжи, стремящейся иметь высшее образование.

26. Составьте план текста. Для этого выделите основные смысловые фрагменты текста и озаглавьте каждый из них.

Рыночная экономика

Для возникновения рыночных отношений важную роль играет наличие или отсутствие права частной собственности на экономические ресурсы. В различные эпохи истории мелкотоварные хозяйства создавали наилучшие условия для формирования рыночной системы с её классическими признаками конкуренции, равновесия спроса и предложения, свободного ценообразования. Разрушение традиций частной собственности разрушает и саму рыночную систему...

Рынок представляет собой универсальную систему использования ограниченных ресурсов. Ограниченность ресурсов не позволяет производить все виды потребительских благ, в которых нуждаются люди. Ограниченность свойственна полезным ископаемым, капиталу, знаниям и информации о технологиях производства. Ограничены и ресурсы земли. И не только в смысле пределов земной

суши или географически обозначенных территорий отдельных государств. Земле свойственна ограниченность в том смысле, что каждый её участок в одно и то же время может использоваться либо в аграрном секторе, либо в добывающей промышленности, либо для строительства.

Роль рынка как регулятора экономических отношений оценивается по-разному. Наряду с теми, кто считает рыночную систему наиболее эффективной экономической моделью, немало и тех, кто усматривает в этой системе серьезные недостатки. Критики рынка, в частности, обращают внимание на то, что есть сферы жизни, где рыночное регулирование неуместно, не достигает нужных целей (общественный транспорт, оборона и др.).

(По кн. «Экономическая теория» / Под ред. В. Д. Камаева. М., 2003. С. 47, 50)

27. Какие три признака рыночной системы указаны в тексте?

28. В чем авторы видят ограниченность такого ресурса, как земля? (Укажите три проявления).

29. Перечислите четыре вида ресурсов, об ограниченности которых говорится в тексте. Какой вид ресурсов не упомянут? На конкретном примере покажите ограниченность этого вида ресурсов.

30. Из курса истории вы знаете, что в России после революции 1917 г. была проведена национализация промышленности. Это послужило началом ликвидации рыночной экономики в стране. Приведите положение текста, в котором выражена эта зависимость. Опираясь на исторические и обществоведческие знания, укажите одну из черт той экономической системы, которая утвердилась в стране в 20–30-е годы XX века.

31. В тексте указывается, что немало исследователей усматривают в рыночной системе серьезные недостатки. Согласны ли вы с такой оценкой рынка? С опорой на текст и обществоведческие знания приведите два аргумента (помимо приведенного в тексте) в защиту своей позиции.